

GENEL YETENEK**1. - 5. SORULARDA CÜMLE VEYA PARÇADAKİ BOŞLUĞU ANLAM BAKIMINDAN EN UYGUN BİÇİMDE TAMAMLAYAN SEÇENEĞİ BULUNUZ.**

1. Yüz yıllık mor salkım çardağı yazın sıcak öğleden sonralarında ideal bir mekân haline getiriyor.

- A) kopkoyu gölgesiyle - tümüyle kaplayarak
- B) dökülen yapraklarıyla - böceklerin ilgisini çekecek
- C) kopkoyu gölgesiyle - şekerleme yapmak için
- D) kurumuş dallarıyla - kavurucu güneş altında
- E) amber kokulu çiçekleriyle - otların üzerine yayılan

2. Gelecek hakkındaki bilgisizliğimiz olmasa acaba nasıl yaşardık? Neler olacağını bilip de onları başka olaylara neden olmaz mıydık? Hayatımızı için bence geleceğin hep karanlık içinde gizli olması gerekiyor.

- A) kanıtlamayı amaçlasaydık -değiştirebilmemiz
- B) yazmayı becerebilseydik - açıklayabilmemiz
- C) anlatmaya yeltenseydik - geçirebilmemiz
- D) çözülemeyi başarsaydık -sorgulayabilmemiz
- E) değiştirmeye kalksaydık - sürdürebilmemiz

3. Her açılan sergi, sanat dünyasına açılan yeni bir pencere, sanatçının bu sanat dünyasında kendisine yer edinme çabasını içeren yeni bir soluktur. Sanatçının bu çabasına diyebiliriz.

- A) kazanacağı parayı yine sanat eseri yapmak için harcaması da
- B) kalburüstünde kalıp kendisini gösterebilme umudu da
- C) çalışma koşullarının iyileştirilmesi de
- D) sanatta gelenekselle yeniyi kaynaştırma düşüncesi de
- E) alanının en iyilerini tanıma olanağı da

4. Dinleyici olarak bir duruşmaya katıldığımda, yağma sırasında mağazadan yedi palto çalmakla suçlanan bir adam yargılanıyordu. Delil olarak, suçlanan adamın olaylar sırasında çekilmiş bir fotoğrafı gösteriliyordu. Çünkü yedi paltoyu üstüne giyivermişti.

- A) Fotoğraftan, gösterişli cüssesinin altında sönük bir kişilik barındırdığı anlaşılıyordu.
- B) Bu fotoğrafı nereden, nasıl çektiklerine bir türlü akıl erdirememiştim.
- C) Fotoğraf, olaya katılanların açıkça tanınabilmesine yetecek kadar netti.
- D) Sivrisinek kadar zayıf olan bu adamcağız, fotoğrafta bir dev gibi iri yarı görünüyor.
- E) Fotoğraf onun suçunu kanıtlamasa da zavallılığını ortaya koyuyordu.

5. Işık kirliliği, ışığın yanlış zamanda, yanlış miktarda, yanlış yönde ve yanlış yerde kullanılmasından kaynaklanır. Hava kirliliği ve su kirliliği gibi zehirleyici olmasa da ışık kirliliği de pek çok olumsuzluklara yol açmaktadır. Gereğinden fazla veya gereksiz yerde ışık kullanılması, yararsız aydınlatma demektir.

- A) Böylece, elektrik enerjisi kullanmadan da aydınlatma sağlanmış olur.
- B) Bunun yanı sıra, ışık kirliliğini önleme girişimlerinden henüz kesin bir sonuç alınamamıştır.
- C) Doğal aydınlatmanın yetersiz olduğu durumlarda, yapay aydınlatmadan yararlanılır.
- D) Bunun sonucu olarak, aydınlatma için harcanan enerjinin önemli bir bölümü boşa gider.
- E) Işık kirliliği, bu yönden hava kirliliğine benzer.

6. - 10. SORULARDA, NUMARALANMIŞ CÜMLERDEN HANGİSİ PARÇANIN ANLAM BÜTÜNLÜĞÜNÜ BOZMAKTADIR?

6. (I) Hazır giyimdeki model ve kumaş çeşitliliği giysi seçmeyi çok zor bir sorun haline getiriyor. (II) Bir mağazada ceket denedim. (III) Omzun biri bayır aşağı, öbürü dağdan yukarı. (IV) Bir tarafını düzeltiyorsun, öbür tarafı sarkıyor; eteğini topluyorsun, yakası alıp başını gidiyor. (V) Bir sıkıntı bastı, sırtımdan aşağı bir ter indi; ceketi çıkarıp attığım gibi kapıya koştum.

- A) I B) II C) III D) IV E) V

7. (I) Buraların güzelliğini sözlerle anlatmak çok güç. (II) Coğrafi koşullar çok ağır; doğa acımasız. (III) Gürül gürül akan derelerle sulanan, yeşil çamlarla kaplı yamaçlarında binlerce bülbül öten bir dağ silsilesi düşünün. (IV) Dağların yüksek bölümleri hâlâ beyaz örtüsünü koruyor. (V) Tertemiz havası ve suyuna doyum olmuştur.

- A) I B) II C) III D) IV E) V

8. (I) Bir şeyin ilkinin merak edip "Bu ilk ne zaman yapılmıştı?" diye kendimize sordüğümüz çok olmuştur. (II) Sümer uygarlığından söz ederken, merak ettiğimiz birçok "ilk"e yanıt bulabiliriz. (III) Günümüzden yaklaşık 5000 yıl önce Sümerler yazıyı bulmuşlar, ilk kent devletini kurmuşlar, ilk yasaları düzenlemişler, ilk efsane ve destan örneklerini vermişlerdi. (IV) Başlangıçta, her Sümer kenti bir doğa gücünü simgeleyen bir tanrının koruyuculuğuna verilmişti. (V) MÖ 3000'lerde insanlık bir şafak sökünü yaşıyordu ve bunu Sümerler yapmıştı.

- A) I B) II C) III D) IV E) V

GENEL YETENEK- GENEL KÜLTÜR

KPSS -2.Deneme

AKADEMİK AÇIKÖĞRETİM

9. (I) Macaristanlı bir yazar, ilk kez gezip gördüğü İstanbul'u ancak, bir masalcının yapabileceği benzetmelerle anlatıyor. (II) Ona göre İstanbul, çocuğunu asma köprüde sallayan bir annedir; Kız Kulesi de onun soğusun diye suya tuttuğu biberonu. (III) Paha biçilmez elmaslarıyla süslenmiş bir taçtır Topkapı Sarayı'nın silueti. (IV) Ters donmuş bir bilardo masası gibidir, kuleleriyle Selimiye Kışlası. (V) İstanbul'a gelen yabancı ziyaretçiler arasında Macaristanlıların oranı fazla değildir.

A) I B) II C) III D) IV E) V

10. (I) İnsanlık tarihinin en önemli buluşlarından ikisi ateş ve tekerlektir. (II) Eğik düzlemden yararlanılması da ateşin ve tekerleğin bulunması kadar büyük bir teknik başarıdır. (III) Çizgi roman ve filmlerde bu iki buluş aynı dönemde gerçekleşmiş gibi gösteriliyor. (IV) Oysa, ateşin ve tekerleğin bulunması aynı zaman aralığına rastlamaz. (V) Ateş, yaklaşık 1,5 milyon yıldır kullanılmaktayken, tekerlek en fazla 5000 yıldır insanlığa hizmet etmektedir.

A) I B) II C) III D) IV E) V

11. - 15. SORULARDA, PARÇANIN ANLAM BÜTÜNLÜĞÜNÜ SAĞLAMAK İÇİN HANGİLERİ YER DEĞİŞTİRMELİDİR?

11. I. Sevecen bir insan olmak sizin elinizdedir.
II. Ama, sevilen bir insan olmak doğrudan size bağlı değildir.
III. Hem böylece, sevgi dolu bir dünya yaratmada kendi payınıza düşen sorumluluğu yerine getirmiş olursunuz.
IV. O halde, sevilmek istiyorsanız sevgi göstermeye önem vermelisiniz.
V. Bununla birlikte, ne kadar çok sevgi gösterirseniz, sevgi görme olasılığınız o kadar artar.

A) I ile III B) I ile II C) III ile IV
D) III ile V E) II ile V

12. I. Sinemadaki özel efektler arasında en yaygın olarak kullanılanlardan biri de ateşle ilgili olanlarıdır.
II. Ateşle ilgili sahnelerin çekiminde yapılan yanlışlık büyük kayıplara yol açacağından, böyle sahnelerde tekrar şansı yoktur ve bunlar bir seferde çekilir.
III. Son derece tehlikeli olan bu efektler konusunda uzman olan bu kişiler alev makinelerinden patlayıcılara değin birçok değişik malzemeden yararlanırlar.
IV. Film setlerinde, ateşle ilgili özel efektlerden ve malzemeden, piroteknisyen adı verilen uzmanlar sorumludur.
V. Bu da, piroteknisyenlerin işlerini olağanüstü bir dikkatle yapmalarını gerektirir.

A) I ile III B) II ile III C) II ile IV
D) III ile V E) IV ile V

13. I. Heredot'tan öğrenildiğine göre, Amazonlar, kraliçelerinin önderliğinde komşu ülkelere baskınlar düzenler ve ele geçirdikleri erkekleri köle olarak kullanırlardı.

II. Amazonlar, tarihle düşün birleştiği bir topluluğu oluşturan savaşçı kadınlar olarak bilinir.

III. Bu baskınlarda, ata biner ve silah olarak ok, yay, mızrak ve iki yüzlü bir balta taşırlardı.

IV. Amazonların bu silahları rahat kullanmak için sağ göğüslerini küçük yaşlarda dağladıkları bilinir.

V. Ancak, sanattaki estetik kaygısından olsa gerek, amazonları gösteren heykeller tek göğüslü değildir.

A) I ile II B) II ile IV C) III ile IV
D) III ile V E) I ile V

14. I. Uyku, organizma için yemek yeme ya da soluk alma gibi bir zorunluluktur.

II. Uykusuzluk deneylerine katılan kişilerde, üçüncü günün sonuna doğru gerginlik, sinirlilik, zamanı bilememe gibi sorunlar ortaya çıkar.

III. Bu belirtilerin yanı sıra, ellerde titreme, vücutta yanma ve ağrılar, görme bozuklukları ortaya çıkmıştır.

IV. Bu uyku ataklarının sıklığı ve süresi, uykusuz geçen zamanın uzunluğuna bağlı olarak artar.

V. Bu deneylere katılan insanlar üç dört gün uykusuz bırakıldıklarında istemleri dışında kısa süreli olarak uyuyakalırlar.

A) I ile III B) II ile IV C) II ile V
D) IV ile V E) I ile V

15. I. Dış dünyadan edindiğimiz izlenimlerin zihnimizde yer aldığı bölüme "bileşim ağı" adını verebiliriz.

II. İnsanlardan tank oldukları bir olayı anlatmaları istendiğinde, ortaya değişik ve birbiriyle çelişen açıklamalar çıkmasının nedeni budur.

III. Bu düzen bizi başka insanlardan ayıran, farklı ve kişisel yanımızı oluşturur.

IV. Dolayısıyla her insan, dünyayı kendi bileşim ağının işleyiş düzenine bağlı olarak farklı bir biçimde algılayabilir.

V. Bileşim ağı, duyularımız yoluyla bize gelen her yeni uyarıyı, yıllar içinde oluşmuş belli bir düzen içinde alır.

A) I ile III B) II ile V C) II ile IV
D) III ile IV E) IV ile V

GENEL YETENEK- GENEL KÜLTÜR

KPSS -2.Deneme

AKADEMİK AÇIKÖĞRETİM

16. I. -Bugünlerde her şeyi unuttur oldum.

II. -.....

III. -Nedenini bilmiyorum; ama bu durumdan hiç memnun değilim.

Yukarıdaki karşılıklı konuşmada, II. kişi seçeneklerde verilenlerden hangisini söylerse konuşmanın akışı bozulur?

- A) Yaşlanınca mı böyle oldu ne dersin?
- B) Çok çalıştığın için olabilir mi?
- C) En çok neyi unutuyorsun?
- D) Nedenini biliyor musun?
- E) Kullandığın ilaçların yan etkisi olabilir mi?

17. I. -Bu öğlen ne yapıyoruz?

II.....

III. Unutmuşum. Hadi gidelim o zaman.

Yukarıdaki karşılıklı konuşmada, II. kişi aşağıdakilerden hangisini söylerse konuşmanın akışı bozulur?

- A) Görmek istediğimiz filmin bugün son günü.
- B) Hava güzel, yürüyüş yapalım.
- C) Annem bizi yardıma çağırıyordu.
- D) Alışveriş için söz vermiştin.
- E) Bana çanta alacaktık.

18. I. Leonardo Da Vinci'nin ölümünün ardından, beş bin sayfalık notları koleksiyoncular tarafından kapışılmıştır.

II. Notları yazarken, kendi kısaltma ve heceleme sistemini geliştirmiş. Sözcükleri kendine özgü bir biçimde birleştirmiş, bölmüş ve hiç noktalama işareti kullanmamıştır.

III. Dolayısıyla, bu notları ayna kullanmadan okumak olanaksızdır.

IV. Leonardo, zekâsını bu notları daha karışık ve okunmaz hale getirmek için de kullanmıştır.

V. Buna ek olarak, tüm karakterleri ters olarak ve sağdan sola yazmıştır.

Yukarıdaki cümleler anlamlı bir bütün oluşturacak biçimde sıralandığında, baştan dördüncü cümle hangisi olur?

- A) I
- B) II
- C) III
- D) IV
- E) V

19. (I) Yirminci yüzyılın başında birçok buluş yapılması, insanlara bu yeni yüzyılın yeni bir çağ olacağını düşündürmüştü; ama yirminci yüzyıl iki büyük dünya savaşıyla gölgelendi. (II) Tarihin hiçbir döneminde böylesine kanlı ve geniş çaplı savaşlar yaşanmamıştı. (III) İnsanlık için alınması gereken en büyük derslerden biriydi bu. (IV) Teknoloji ve bilim kullanılırken, amacın ne olduğu asla unutulmamalıydı. (V) Gerçekte bilim, insanlığın yararına da kullanılabilir, insanları yok etmek için de. (VI) İkinci Dünya Savaşı'nın sonlarında kullanılmaya başlanan nükleer güç, enerji elde etmenin yanı sıra bomba yapmak için de kullanılmıştı.

Yukarıda numaralanmış cümlelerin hangisinde kendisinden önceki cümlede söylenenlere örnek verilmiştir?

- A) V
- B) II
- C) III
- D) IV
- E) VI

20. "Akdeniz bir an önce gözüksün diye Toroslar'da ağaçlar hep çocuk kalır."

dizelerinde aşağıdakilerin hangisinden yararlanılmıştır?

- A) Kanıtlama
- B) Kişileştirme
- C) Karşılaştırma
- D) Açıklama
- E) Tanımlama

21. "O konuşmaya başladığında, insanlar ağzının içine bakarlar." **cümlesinde bahsedilen kişiyi aşağıdakilerde hangisiyle nitelendirebiliriz?**

- A) Uzun süredir o işte çalışan deneyimli birinin olduğu.
- B) Hep hazırlıklı olan, söyleyeceklerini önceden kaleme alan.
- C) Kendisini zevkle dinleten.
- D) Kızgın olduğunda bile kırıcı konuşmayan.
- E) İnsanların sorunlarını paylaşan.

22. "Her alışkanlık elimizi daha becerikli, aklımızı daha beceriksiz yapar." **sözüyle anlatılmak istenen aşağıdakilerden hangisidir?**

- A) Alışkanlık haline gelen davranışların, ayrıntısı düşünülmeden, otomatik olarak yapıldığı.
- B) Alışkanlıkların kazanılmasında, zihinsel gelişmelerden çok, fiziksel gelişmelerin etkili olduğu.
- C) İnsanın bazı alışkanlıklarının kendisi için yararlı, bazılarının zararlı olabileceği.
- D) Birçok kez tekrarlanan davranışların alışkanlığa dönüşebileceği.
- E) İnsanın birçok alışkanlığının el becerisiyle ilgili olduğu.

SAYFA 3

GENEL YETENEK- GENEL KÜLTÜR

KPSS -2.Deneme

AKADEMİK AÇIKÖĞRETİM

23. "İnsanlar kılık kıyafeti ile karşılaşılır; fikirleriyle uğurlanır." cümlesine dayanarak aşağıdaki yargılardan hangisine ulaşılamaz?

- A) İlk kez karşılaşılan kişinin dış görünüşü, ona olan yaklaşımı etkiler.
- B) İnsanın asıl değeri görünüşünden çok, düşüncelerine bağlıdır.
- C) Kişiler hakkındaki görüşler onları tanıdıkça değişebilir.
- D) Düşüncelerine saygı duyulan kişiler, olumsuz davranışlar da hoş karşılanırlar.
- E) İnsanları tanıdıkça, onların dış görünüşleri önemini yitirir.

24. Doğru çeviri ile edebi değer taşıyan çeviri arasında büyük fark vardır. Çevirinin edebi değer taşıması için doğru olması yetmez, anlatımın da sanatsal olması gereklidir.

Yukarıdaki parçadan, seçeneklerde verilen yargılardan hangisine ulaşılabılır?

- A) Bazı diller, sanatsal çeviri yapmaya elverişli değildir.
- B) Doğru olan her çeviri, aynı zamanda sanatsal bir çeviridir.
- C) Doğru bir çeviri, edebi değer taşımayabilir.
- D) Edebi değer taşıyan bir çevirinin doğru olması zorunlu değildir.
- E) Çevirinin doğru yapılabilmesi için dilin de çok iyi bilinmesi gerekir.

25. Dünya'da elektrik üreten rüzgâr türbinlerinin çalışması için rüzgârın saniyede en az 10 metre hızla esmesi gerekmektedir. Aynı rüzgâr türbininin Mars'ta aynı düzeyde üretim yapabilmesi için gerekli rüzgâr hızı, saniyede 30 metredir. Bunun nedeni, Mars atmosferinin yoğunluğunun, Dünya atmosferinin yoğunluğundan çok daha düşük olmasıdır.

Yukarıdaki parçada, seçeneklerde verilenler arasında hangisiyle ilgili bilgi verilmektedir?

- A) Elektrik üretebilmek için gerekli rüzgâr hızıyla atmosfer yoğunluğu arasındaki ilişki.
- B) Rüzgâr türbiniyle elektrik üretiminin maliyeti.
- C) Rüzgâr türbinlerinin kuruluş yeri belirlenirken nelere dikkat edilmesi gerektiği.
- D) Dünya atmosferinin Mars atmosferinden daha yoğun oluşunun nedeni.
- E) Rüzgâr hızıyla, üretilen elektrik miktarı arasındaki ilişki.

26. Kuram, soyut bir yapıdır. Oysa bazı toplumlar somut yapılarla yaşarlar, yaşadıklarını soyut sistemlere dönüştürme gereksinimi duymazlar. Gündelik yaşamın somut sorunları, yine somut yollarla ve hemen çözülür; daha geniş yorumlara, ileriye yönelik akıl yürütmelere gerek görülmeden kısa vadeli çözümler yeğlenir. Ders çıkarmak, bir tür kuram oluşturmaktır; soyut düşündürmektir. O da her işi somut düzlemde çözenlerde bulunmaz.

Paragrafa göre, verilenlerden hangisi sorunları somut düzlemde çözen toplumların bir özelliğidir?

- A) Yapılan hataların tekrarlanmaması için önlemler alma.
- B) Sorunlara çözüm ararken geleceği de dikkate alma.
- C) Çözüm üretirken bilimsel görüşlerden yararlanma
- D) Deneyimler üzerinde düşünerek kapsamlı yorumlara ulaşma.
- E) Geçici çözümlerden yararlanma.

27. Yollar aynı olsa bile, her yolculuğun bir öncekinden başka olmasını sağlamak yolcunun elindedir. Biraz şansa, biraz düşlerin zenginliğine, biraz algı kanallarının açıklığına bağlıdır yolda hayat. Kısacası, her yola, her defasında ilk sefermiş gibi gidilebilir.

Parçaya dayanarak aşağıdaki yargılardan hangisine ulaşılamaz?

- A) İnsan, hayallerinin de desteğiyle yaşamdan tat alabilir.
- B) Yaşamı renklendirmek ve farklı kılmak insanın çabasına bağlıdır.
- C) Yaşama kendinden bir şey katmak tekdüzeliği ortadan kaldırır.
- D) İyi ve kötü yönleriyle yaşananları paylaşmak, yaşamdan alınan zevki artırır.
- E) Çevrede olup bitenlerin farkında olmak yaşamı zenginleştirir.

28. Bir işi yaparken önemli olanı gözden kaçırmamak, o işi kısa sürede bitirmekten daha iyidir. Kimileri, kısa sürede işi bitirmeyi ya da bitirmeden bitirmiş görünmeyi, böylece de çok becerikli bir insan izlenimi uyandırmayı düşünürler. Ama gerçekte, işleri yoğunlaştırarak kısaltmak başka, keserek kısaltmak başkadır. Kısa sürede bitirilen ama yarım yamalak yapılan bir işle kimseyi memnun etmek mümkün değildir.

Aşağıdaki seçeneklerde verilen yargılardan hangisi parçadan çıkartılabilir?

- A) Bir işte elde edilen başarı, işin bitirilme süresiyle değil, niteliğiyle ölçülmelidir.
- B) Gerekli inceleme ve hazırlıklar yapılmadan işe başlanması, kötü sonuç verir.
- C) Bir iş süresinden önce bitmişse, mutlaka baştan savma yapılmıştır.
- D) Bir işi çabuk yapmaktansa, hiç yapmamak daha iyidir.
- E) Bir işi zamanından önce bitirebilmek için o işin uzmanı olmak gerekir.

SAYFA 4

GENEL YETENEK- GENEL KÜLTÜR

AKADEMİK AÇIKÖĞRETİM

KPSS -2.Deneme

29. Haendel, bestelerine sık sık başka yapıtlardan alıntılar katmasıyla ünlüdür. Kendi eski yapıtlarından temalar ve bölümler alıp bunları yeni yapıtlarına kattığı gibi, başkalarının yapıtlarının bazı bölümlerini yeni bir çerçeve içinde kullanma hakkını da kendisinde görmüştür. Haendel, bu yönden eleştirilemeyeceğini; çünkü yapıtı kendi yorumuyla yeniden yoğurup ortaya çıkardığını savunmuştur.

Haendel, savunmasını neye dayandırmaktadır?

- A) Bestelerini oluşturmak için zaman harcamasına.
- B) Başarılı yapıtlarından alıntı yapmasına.
- C) Yalnız başkalarının yapıtlarından değil, kendi yapıtlarından da alıntı yapmasına.
- D) Alıntılarını kendisinden katkılar yaparak kullanmasına.
- E) Alıntılarının kendi bestelerinin yalnızca küçük bir bölümünü oluşturmasına.

30. Fırtınalı bir okyanusun ortasında dalgalarla boğuşan küçük yelkenliler gibi yaşamın ve geleceğin belirsizliklerine doğru yol aldığımız şu sıralarda, sizinle geçirdiğimiz eski günler gözümde tütüyor.

Yukarıdaki cümlede seçeneklerde verilenlerden hangileri arasında benzerlik kurulmuştur?

- A) Dalga - Yolculuk
- B) Okyanus - Dostluk
- C) Boğuşmak - Özlem
- D) Fırtına - Geçmiş
- E) Yelkenli - İnsan

31. $a, b \in \mathbb{Z}^+$ olmak üzere; $\frac{10a - b}{5} = 2,4$ eşitliğinde a 'nın en küçük değeri için $a + b$ nedir?

- A) 5
- B) 6
- C) 8
- D) 10
- E) 11

32. $a^4.b^2.c^3 < 0$, $a^3.b^4.c^5 > 0$, $a^5.b.c > 0$ ise, (a,b,c) 'nin işaretleri sırasıyla nedir?

- A) (-,-,-)
- B) (-,+,+)
- C) (+,-,-)
- D) (+,+,-)
- E) (-,+,-)

33. $\frac{n!}{5!} \cdot \frac{7!}{(n-1)!} = ?$

- A) $30n$
- B) $\frac{30}{n}$
- C) $\frac{n}{30}$
- D) $\frac{n}{7}$
- E) $42n$

34. Rakamları farklı, iki basamaklı üç farklı doğal sayının toplamı 206 ise, en küçük sayı en az kaç olabilir?

- A) 14
- B) 13
- C) 12
- D) 11
- E) 10

35. m bir tamsayı olmak üzere, $3m+2$ bir çift sayı olduğuna göre, aşağıdakilerden hangisi daima bir çift sayıdır?

- A) $m^2 - 1$
- B) $m + 3$
- C) $3m - 7$
- D) $m^3 + m^2 + 1$
- E) $m^3 + m$

36. Ardışık beş sayının toplamı 210 ise, büyük sayı kaçtır?

- A) 38
- B) 39
- C) 40
- D) 42
- E) 44

37. n sayı tabanı olmak üzere, $(210)_n - (111)_n = 8$ ise n kaçtır?

- A) 15
- B) 9
- C) 8
- D) 3
- E) 2

GENEL YETENEK- GENEL KÜLTÜR

KPSS -2.Deneme

AKADEMİK AÇIKÖĞRETİM

38. m ve n birer doğal sayıdır.

$$\frac{m}{n^3} = \frac{61}{n}$$

olduğuna göre, n'nin alabileceği değerlerin toplamı kaçtır?

- A) 3 B) 6 C) 9 D) 10 E) 13

39. a1a2a beş basamaklı sayısı 12 ile tam bölünebildiğine göre a sayısının alabileceği değerler toplamı kaçtır?

- A) 6 B) 7 C) 12 D) 15 E) 17

40. m ve n birer pozitif tam sayıdır.

$80.n=m^2$ olduğuna göre, n'nin en küçük değeri kaçtır?

- A) 900 B) 60 C) 30 D) 5 E) 3

41. x doğal sayısının 3 ile bölümünden kalan 2, y doğal sayısının 3 ile bölümünden kalan 1 ise $(3x+4)^3+(y-1)^3$ nün 3 ile bölümünden kalan kaçtır?

- A) 0 B) 1 C) 2 D) 3 E) 6

42. Aşağıdakilerden hangisi $-\frac{17}{8}$ kesrine eşittir?

- A) $-7\frac{2}{8}$ B) $-3\frac{2}{8}$ C) $-2\frac{1}{8}$ D) $-2\frac{7}{8}$ E) $-1\frac{3}{8}$

43. 128,502 - 10,007 işleminin sonucu kaçtır?

- A) 115,123 B) 117,505 C) 117,495
D) 118,505 E) 118,495

44. $3x-1 < 6x-7 \leq 4x+3$ eşitsizliğini sağlayan x tam sayıları kaç tanedir?

- A) 7 B) 6 C) 5 D) 4 E) 3

45. $3 < x < 7$ ise, $|x-3|+|x-7|$ ifadesi aşağıdakilerden hangisine eşittir?

- A) 3 B) 4 C) 10 D) $2x-10$ E) $-2x+10$

46. 8^6 doğal sayısı 4 tabanına göre yazıldığında, kaç basamaklı bir sayı elde edilir?

- A) 20 B) 19 C) 18 D) 10 E) 9

47. $\sqrt{4+\sqrt{12}}$ ifadesi aşağıdakilerden hangisine eşittir?

- A) $\sqrt{3}+1$ B) $\sqrt{3}-1$ C) $3-\sqrt{2}$
D) $\sqrt[4]{120}$ E) $\sqrt[4]{29}$

48. $\frac{x^2}{x-2} + \frac{x+2}{2-x}$ kesrinin en sade şekli aşağıdakilerden hangisidir?

- A) -1 B) 0 C) 1 D) x+1 E) x

SAYFA 6

GENEL YETENEK- GENEL KÜLTÜR

KPSS -2.Deneme

AKADEMİK AÇIKÖĞRETİM

49. Bir eczacı A,B,C maddelerini $\frac{A}{B} = \frac{1}{4}, \frac{B}{C} = \frac{3}{5}$ oranlarında kullanarak bir karışım elde etmek istiyor. Eczacı 700 gr.lık bir karışım elde ettiğine göre bu karışımın B maddesi kaç gr.dır?

- A) 80 B) 96 C) 108 D) 144 E) 240

50. $3x - 5y + z = 5$
 $-x + 3y = -3$ ise $x+y+z$ kaçtır?

- A) -1 B) 3 C) 5 D) 7 E) 12

51. 3 armut fiyatına 5 portakal ve 2 portakal fiyatına 7 elma alınabilen bir manavdan ,6 armut ve 2 portakal alabilen bir kişi aynı paraya kaç elma alabilir?

- A) 14 B) 28 C) 42 D) 50 E) 62

52. Bir memur, maaşının $\frac{1}{4}$ 'ünü ev kirasına, geriye kalanın yarısını mutfak masrafına ayırıyor. Elinde 42 YTL'si kalıyor. Bu memurun maaşı kaç YTL dir?

- A) 112 B) 125 C) 136 D) 148 E) 157

53. Bir işin Murat'ın yarısını yaptığı sürede, Mehmet üçte birini bitirmektedir. İki birlikte bu işi 18 günde bitirebilediklerine göre, Murat tek başına bu işi kaç günde bitirir?

- A) 20 B) 21 C) 24 D) 27 E) 30

54. Aynı evi paylaşan bir grup öğrenci 180.000.000 TL kira giderini eşit olarak bölüşüyorlar. Eve bir arkadaşları daha katılınca kişi başına düşen kira gideri % 20 azalıyor. Buna göre son durumda kişi başına düşen ev kirası kaç TL dir?

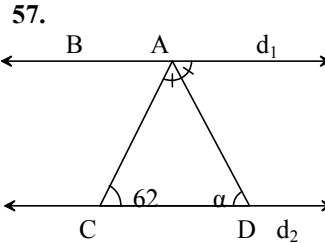
- A) 36.000.000 B) 30.000.000 C) 24.000.000
D) 20.000.000 E) 18.000.000

55. Üç kardeşin 4 yıl önceki yaşları toplamı 55'tir. Şimdiki yaşları toplamı kaçtır?

- A) 43 B) 51 C) 55 D) 59 E) 67

56. Bir aracın saatte 60 km hızla 10 saatte aldığı yolu 8 saatte alabilmesi için hızı % kaç arttırılmalıdır?

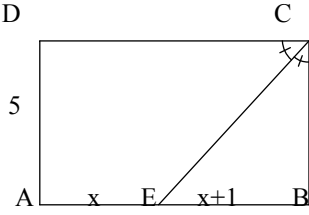
- A) 45 B) 40 C) 35 D) 30 E) 25



$d_1 // d_2$ [BD] açıortay
 $m(\angle BCD) = 62^\circ$ $m(\angle BDC) = \alpha$
yukarıdaki verilere göre, $m(\angle BDC) = \alpha$ kaç derecedir?

- A) 45 B) 52 C) 59 D) 62 E) 118

58.

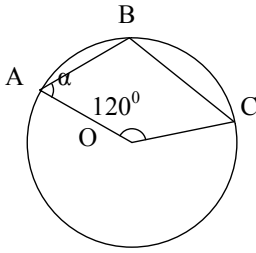


ABCD bir dikdörtgen [CE] açıortay $|AD|=5\text{cm}$ $|AE|=x$
 $|EB|=x+1$

Yukarıdaki verilere göre $|AE|=x$ kaç cm dir?

- A) 3 B) 4 C) 5 D) 7 E) 9

59.



O, çemberin merkezi $m(\angle ABC)=2m(\angle BCO)$

$m(\angle AOC)=120^\circ$

Yukarıdaki verilere göre $m(\angle OAB)=\alpha$ kaç derecedir?

- A) 30 B) 40 C) 50 D) 60 E) 80

60. Ayrıtlarının uzunlukları 2cm, 4cm ve 8cm olan bir dikdörtgenler prizması şeklindeki kap su ile doludur. Bu prizma içindeki suyun tamamını alacak küpün bir ayrıtlarının uzunluğu kaç cm'dir?

- A) 2 B) 3 C) 4 D) 5 E) 6

GENEL YETENEK- GENEL KÜLTÜR

KPSS -2.Deneme

AKADEMİK AÇIKÖĞRETİM

GENEL KÜLTÜR

1. Osmanlı Devleti'nde I. Meşrutiyet'in ilan edilmesinde etkili olan grubun adı aşağıdakilerden hangisidir?

- A) Ahrar Fırkası
- B) Genç Osmanlılar Cemiyeti
- C) İttihat ve Terakki Cemiyeti
- D) Adem-i Merkeziyet Cemiyeti
- E) Hürriyet ve İtilaf Fırkası

2. Selçuklu mimarisiyle ilgili aşağıdaki örneklerden hangisinin askerî nitelikli bir işlevinden söz edilemez?

- A) Kervansaraylar
- B) Kaleler
- C) Tersaneler
- D) Kışlalar
- E) Surlar

3. Karamanoğullarının Türkçeyi resmî dil olarak kabul etmeleri aşağıdaki yaklaşımlardan hangisinin bir göstergesidir?

- A) Türk beyliklerinin en güçlüsü olduklarının
- B) Anadolu'daki ilk Türk devleti olduklarının
- C) Selçuklu Devleti'nin mirasçısı olduklarının
- D) Türk diline önem verdiklerinin
- E) Osmanlılarla siyasi mücadeleye girdiklerinin

4. İslamiyet öncesindeki Orta Asya Türk devletlerinde "**egemenlik hakkı**"nı ifade eden kavram aşağıdakilerden hangisidir?

- A) Kut
- B) Buyruk
- C) Kağan
- d) Şad
- E) Kam

5. Osmanlı Devleti'nde 1876'da Kanun-i Esasi'nin ilan edilmesiyle aşağıdakilerden hangisi gerçekleştirilmiştir?

- A) Osmanlı padişahının görevine son verilmiştir.
- B) Meşrutî monarşik egemenlik anlayışına geçilmiştir.
- C) Parlamenter sistemin ilk örneği oluşturulmuştur.
- D) Avrupa devletleri ile süren çelişkiler son bulmuştur.
- E) Meclis iradesinin hükümdarın üzerinde olduğu anlayışı kabul edilmiştir.

6. Osmanlı Devleti'nde tüm yurttaşları kapsayan bir hukuk sisteminin oluşturulması anlayışına yönelişin ilk belgesi aşağıdakilerden hangisidir?

- A) 1909 Anayasa değişikliği
- B) Islahat Fermanı
- C) Tanzimat Fermanı
- D) Kanun-i Esasi
- E) Sened-i İttifak

7. Milli Mücadele'de Sivas'ta ulusal bir kongrenin düzenlenmesi aşağıdakilerden hangisine dayanılarak gerçekleştirilmiştir?

- A) Erzurum Kongresi'ne
- B) Amasya Tamimi'ne
- C) Misak-ı Milli'nin ilanına
- D) Balıkesir Kongresi'ne
- E) Amasya Protokolü'ne

8. Aşağıdakilerden hangisi Son Osmanlı Mebuslar Meclisi'nde benimsenen Misak-ı Milli kararları arasında yer almaz?

- A) Mondros Mütarekesi imzalandığında elde kalan topraklardan ödün verilmeyecektir.
- B) Kars, Ardahan ve Batum'un egemenliği halk oylaması ile belirlenmelidir.
- C) Boğazların güvenliği sağlandığında bölge dünya ticaretine açılabilir.
- D) Kıbrıs vatan sınırları içerisindedir.
- E) Arap ülkelerinin geleceği bölge halkının halk oylaması sonucuna göre belirlenmelidir.

9. Aşağıdakilerden hangisi Kurtuluş Savaşı sırasında Sovyet Rusya ile TBMM'nin işbirliğine gitmesinin nedenlerinden biridir?

- A) Yunanistan'ın Sovyet yönetimine karşı olması
- B) İngiltere ve Fransa arasında Ortadoğu konusunda anlaşmazlık çıkması
- C) Sovyet Rusya'daki yeni rejimin güçlendirilmek istenmesi
- D) TBMM içerisinde Sovyet rejimini destekleyenlerin de olması
- E) Emperyalizmin, tarafların ortak düşmanı olması

10. TBMM'nin imzaladığı ilk antlaşma aşağıdakilerden hangisidir?

- A) Lozan Antlaşması
- B) Moskova Antlaşması
- C) Gümrü Antlaşması
- D) Kars Antlaşması
- E) Mudanya Antlaşması

11. Antlaşma Devletlerinin TBMM Hükümeti'ni "**Türk tarafının temsilcisi**" olarak tanımasını ilk kez aşağıdaki gelişmelerin hangisiyle gerçekleştirmiştir?

- A) San Remo Konferansı'nın toplanmasıyla
- B) Lozan Antlaşması'nın onaylanmasıyla
- C) Mustafa Kemal'in başkomutanlık görevini üstlenmesiyle
- D) Londra Konferansı'nın gerçekleşmesiyle
- E) Büyük Taarruz'un başarıya ulaşmasıyla

SAYFA 9

AKADEMİK İLETİŞİM AÇIKÖĞRETİM KURSLARI
Zeytinlik Mah.Halkçı Sok. Yavuz İshani No:30 Kat:4 BAKIRKÖY
Tel : (212) 543-44-42/543-86-42

GENEL YETENEK- GENEL KÜLTÜR

KPSS -2.Deneme

AKADEMİK AÇIKÖĞRETİM

12. Aşağıdakilerden hangisi TBMM'nin yasama gücünü kullandığının doğrudan kanıtıdır?

- A) Ulus egemenliğini kabul etmesi
- B) Hıyanet-i Vataniye Kanunu'nun kabul edilmesi
- C) Meclis Hükümeti işleyişinin benimsenmesi
- D) Türkiye Barışı için İstanbul Hükümeti ile bağların koparılması
- E) Meclise karşı gerçekleşen ayaklanmaların bastırılması

13. Türkiye'de Tevhid-i Tedrisat Kanunu ve Medeni Kanun'un kabul edilmesiyle gerçekleştirilmek istenen amaç aşağıdakilerden hangisidir?

- A) Ulusal burjuvaziyi güçlendirmek
- B) Saltanat anlayışına geri dönüşü engellemek
- C) Öğretimde ve hukuk alanında birlik sağlamak
- D) Çok partili siyasal yaşama geçmek
- E) Ekonomik kalkınmayı gerçekleştirmek

14. Aşağıdakilerden hangisi Türkiye Cumhuriyeti'nde milliyetçilik ilkesi doğrultusundaki uygulamalardan biridir?

- A) Latin karakterli Türkçe alfabeyle geçilmesi
- B) Bazı yabancı işletmelerin kamulaştırılması
- C) Saltanat'ın kaldırılması
- D) Takrir-i Sükun Kanunu'nun kabulü
- E) Aşar vergisinin kaldırılması

15. Lozan Antlaşması'nın aşağıdaki kararlarından hangisiyle Türkiye'nin egemenlik hakları sınırlandırılmıştır?

- A) Düyun-u Umumiye'nin kapatılmasıyla
- B) Kapitülasyonların kaldırılmasıyla
- C) Irak dışındaki sınırların belirlenmesiyle
- D) Boğazlarda uluslararası bir komisyon kurulmasıyla
- E) Savaş tazminatı ödenmemesiyle

16. 2. TBMM'de 1923 Sonbaharı'nda yaşanan hükümet bunalımının nedeni aşağıdakilerden hangisidir?

- A) Hatay'ın yeni devletin sınırları içerisinde yer almaması
- B) Aşar vergisinin uygulamadan kaldırılmak istenilmesi
- C) Hükümetin kurulmasının uzun bir zamanı kapsamaması
- D) Lozan Antlaşması görüşmelerine İsmet Paşa'nın gitmesi
- E) Osmanlı suyunun yurt dışına gönderilmesi

17. Kurtuluş Savaşı sırasında değişik bölgelerde ve zamanlarda gerçekleştirilen kongrelerin tek ortak amacı aşağıdakilerden hangisidir?

- A) Yurdun işgalden kurtarılması
- B) Saltanatın kaldırılması
- C) İstanbul hükümeti ile ilişkilerin kesilmesi
- D) Kuvayı Milliye'ye destek verilmesi
- E) TBMM'ye destek sağlanması

18. Osmanlı Devleti'yle ilgili aşağıdaki gelişmelerden hangisi sonucunda İttihat ve Terakki Fırkası iktidara tam anlamıyla egemen olmuştur?

- A) Balkan Savaşlarının ardından
- B) Birinci Dünya Savaşı sonunda
- C) Edirne'nin Bulgaristan'dan geri alınmasıyla
- D) Bab-ı Ali Baskını sonucunda
- E) Almanya'nın Enver Paşa'ya destek vermesiyle

19. Aşağıdaki gelişmelerden hangisiyle Türkiye Cumhuriyeti'nde, çok partili siyasal yaşama geçişle ilgili ilk girişim ortaya çıkmıştır?

- A) Demokrat Parti'nin kurulmasıyla
- B) Serbest Cumhuriyet Fırkası'nın kurulmasıyla
- C) Terakkiperver Cumhuriyet Fırkası'nın kurulmasıyla
- D) Cumhuriyet Halk Fırkası'nın kurulmasıyla
- E) Saltanatın ardından hilafetin de kaldırılmasıyla

20. Aşağıdakilerden hangisi Türkiye'de "laikliğin benimsenmesi"yle doğrudan ilgili değildir?

- A) Tekke ve zaviyelerin kapatılması
- B) Medeni Kanun'un kabul edilmesi
- C) Hicrî takvim yerine Miladî takvime geçilmesi
- D) Hilafetin kaldırılması
- E) Tevhid-i Tedrisat Kanunu'nun kabul edilmesi

21. Aşağıdakilerden hangisi Cumhuriyet'in ilk yıllarında köylülerin ekonomik olarak rahatlamasına yönelik uygulamalardan biri değildir?

- A) Yüksek Ziraat Enstitüsü'nün kurulması
- B) Aşar vergisinin kaldırılması
- C) Toprak reformunun gerçekleştirilmesi
- D) Uygun kredilerin verilmesi
- E) Ucuz tohum sağlanması

GENEL YETENEK- GENEL KÜLTÜR

KPSS -2.Deneme

AKADEMİK AÇIKÖĞRETİM

22. Türkiye Cumhuriyeti'nde,

- I. Abdülmecit Efendi'nin halife seçilmesi,
- II. kadınlara seçilme hakkının verilmesi,
- III. Türk Medeni Kanunu'nun kabul edilmesi

gelişmelerinin kronolojik seyri aşağıdakilerden hangisinde doğru gösterilmiştir?

- A) I- III- II
- B) II- I- III
- C) II- III- I
- D) III- II- I
- E) III- I- II

23. Osmanlı döneminden günümüze ulaşan aşağıdaki saraylardan hangisinin yapı tarzında Batı mimarisinin etkisi daha azdır?

- A) Dolmabahçe
- B) Beylerbeyi
- C) Topkapı
- D) Çırağan
- E) Yıldız

24. Türkiye Devleti, Atatürk döneminde aşağıdaki uluslararası kuruluşlardan hangisine üye olmuştur?

- A) Kuzey Atlantik Paktı'na
- B) Avrupa Konseyi'ne
- C) Birleşmiş Milletlere
- D) Sadabad Paktı'na
- E) Avrupa Topluluğu'na

25. Aşağıdakilerden hangisi Şeyh Sait Ayaklanması'nın gerçekleşmesi üzerine gündeme gelen uygulamalardan biri değildir?

- A) Terakkiperver Cumhuriyet Fırkası'nın kapatılması
- B) İstiklal Mahkemelerinin yeniden kurulması
- C) Takrir-i Sükun Yasası'nın kabul edilmesi
- D) Kısmi seferberlik ilan edilmesi
- E) Hıyanet-i Vataniye Yasası'nın kabul edilmesi

26. Boğazlar üzerinde Türkiye'nin tam denetimi aşağıdakilerden hangisiyle sağlanmıştır?

- A) Lozan Antlaşması'yla
- B) Kabotaj Yasası'nın kabul edilmesiyle
- C) Montrö Sözleşmesi'yle
- D) Ankara Antlaşması'yla
- E) Milletler Cemiyeti'ne üye olunmasıyla

27. I. ulusçuluk
II. halkçılık
III. devrimcilik

II. TBMM tarafından 3 Mart 1924'te hilafetin kaldırılmasının kabul edilmesi yukarıdaki ilkelerden hangilerinin uygulanmasıdır?

- A) Yalnız I
- B) Yalnız III
- C) I ve II
- D) I ve III
- E) II ve III

28. Aşağıdakilerden hangisi İkinci Dünya Savaşı sırasında Türkiye Devleti'nin izlediği politikalardan biri değildir?

- A) Savaşa son anda dahil olunmuştur.
- B) Uzun süre tarafsızlık siyaseti izlenmiştir.
- C) Savaş alanları dışında kalınmıştır.
- D) Almanya ile saldırmazlık antlaşması imzalanmıştır.
- E) Büyük oranda bir dışsıtm gerçekleştirilmiştir.

29. Mustafa Kemal, Nutuk'u ilk defa ve nerede okumuştur?

- A) 1927'de CHP Grubu'nda
- B) 1933'te Cumhuriyetin yıldönümünde
- C) 1927'de Dolmabahçe Sarayı'nda
- D) 1923'te TBMM'de
- E) 1933'te Halkevlerinin açılışında

30. Aşağıdakilerin hangisinde belirtilen kurumlar Atatürk döneminde kurulmuştur?

- A) Türk Tarih Kurumu – Köy Enstitüleri
- B) Millet Mektepleri – Ege Üniversitesi
- C) Halkevleri – Millet Mektepleri
- D) Türk Dil ve Tarih Yüksek Kurumu – İstanbul Şehir Tiyatroları
- E) Köy Enstitüleri – Hukuk Yüksek Okulu

31. Türkiye'de "tek dereceli seçim yöntemi" ilk kez aşağıdaki seçimlerin hangisinde uygulanmıştır?

- A) 1877
- B) 1908
- C) 1920
- D) 1923
- E) 1946

32. Türkiye'de uygulanmış olan aşağıdaki anayasaların hangisinde ilk kez "iki meclisli bir yapı" oluşturulmuştur?

- A) 1876
- B) 1909
- C) 1921
- D) 1924
- E) 1961

33. Aşağıdakilerden hangisi mevzuat hukuku açısından Türkiye'de cumhurbaşkanlığı ile ilgili doğru bir bilgi değildir?

- A) Yedi yıllık süreyle görev yapar.
- B) İki dönem görev yapabilir.
- C) Başbakanı atar ve istifasını kabul eder.
- D) Yürütme erki içinde yer alır.
- E) Meclis dışından bir kişi de göreve seçilebilir.

SAYFA 11

GENEL YETENEK- GENEL KÜLTÜR

AKADEMİK AÇIKÖĞRETİM

KPSS -2.Deneme

34. Türkiye, aşağıdaki uluslararası kuruluşlardan hangisine üye olmamıştır?

- A) Avrupa Konseyi B) NATO C) NAFTA
D) Birleşmiş Milletler E) İKÖ

35. Aşağıdakilerden hangisi 1982 Anayasası'na göre bir partinin Anayasa Mahkemesi tarafından sürekli kapatılmasının nedenlerinden biri değildir?

- A) Parti kuruluşu için önce izin alınmaması
B) Tüzüğü'nün laiklik ilkesine uymaması
C) Devlet tarafından zararlı kabul edilen bir ideolojiye sahip olması
D) Parti faaliyetleri için kişilerden bağış kabul etmesi
E) Demokratik devlet işleyişine aykırı çalışmalar yürütmesi

36. Aşağıdakilerden hangisinin Türkiye Cumhuriyeti'nde bir yurttaşa mahkemelerce verilmiş olan bir cezayı yürürlükten kaldırma yetkisi vardır?

- A) Anayasa Mahkemesi Başkanı'nın
B) Başbakan'ın C) Meclis Başkanı'nın
D) Yargıtay Başkanı'nın E) Cumhurbaşkanı'nın

37. 1924 Anayasası'nın Türkiye'deki diğer anayasaların tümünden farklılığı aşağıdakilerden hangisidir?

- A) En uzun süre uygulanan anayasadır.
B) Tek meclisli bir yapısı vardır.
C) Kişi hak ve özgürlükleri kısıtlıdır.
D) Halk oylaması ile kabul edilmemiştir.
E) Atatürk döneminde hazırlanmıştır.

38. Türkiye Cumhuriyeti Merkez Bankası Başkanı'nı atama yetkisi aşağıdakilerden hangisine aittir?

- A) Başbakana B) Cumhurbaşkanı'na
C) TBMM Başkanına D) Maliye Bakanına
E) Hazine'den sorumlu devlet bakanına

39. Aşağıdakilerden hangisi Türkiye'de yaşanan ekonomik krizlerin nedenleriyle ilgili doğru bir ifade değildir?

- A) Cari açık miktarının sürekli büyümesi
B) Döviz'e bağlı açık pozisyonun artış göstermesi
C) Sürekli ve sürdürülebilir bir büyümenin sağlanamaması
D) Enflasyonun düşme eğiliminde olması
E) Bankacılık sisteminin rehabilite edilememesi

40. Bugün itibarıyla aşağıdaki devletlerden hangisi Avrupa Birliği üyesi değildir?

- A) Malta B) Polonya C) Litvanya
D) Norveç E) Bulgaristan

41. Türkiye Cumhuriyeti'nde aşağıdaki kurumlardan hangisinin tüzel kişiliği yoktur?

- A) TRT B) İstanbul Üniversitesi
C) Milli Savunma Bakanlığı D) İstanbul Belediyesi
E) Türk Telekom

42. TBMM'de milletvekillerinin tümünün katıldığı bir oturumda "salt çoğunluk" kaç milletvekili ile sağlanır?

- A) 550 B) 455 C) 356 D) 325 E) 276

43. Türkiye'de akarsuların oluşturduğu şekiller üzerinde bazen aşındırma, bazen de biriktirme etkilidir. Örneğin; vadiler akarsu aşındırmasıyla oluşmuştur. Akarsuların biriktirmesinin vadi oluşumunda etkisi yoktur.

Bu bilgilere dayanarak aşağıda verilen şekillerden hangisi üzerinde akarsuların hem aşındırma hem de biriktirmesi rol oynamıştır?

- A) Peri bacaları B) Kırgı bayır C) Travertenler
D) Menderes E) Birikinti konisi

44. Akarsuların akış hızı ile eğim arasında sıkı bir bağlantı vardır. Eğim fazla ise akarsuyun akış hızı da fazladır. Dolayısıyla o bölgenin hidroelektrik enerji potansiyeli de yüksektir.?

Bu bilgilere dayanarak ülkemizde hidroelektrik enerji potansiyeli en fazla olan bölgemiz hangisidir?

- A) Akdeniz Bölgesi B) Ege Bölgesi
C) İç Anadolu Bölgesi D) Karadeniz Bölgesi
E) Doğu Anadolu Bölgesi

45. Aşağıda verilen akarsular ve döküldükleri deniz şikl-rından hangisi yanlıştır?

- A) Susurluk-Marmara Denizi B) Çoruh-Hazar Denizi
C) Fırat-Basra Körfezi D) Kura-Hazar Denizi
E) Meriç-Ege Denizi

46. Yılın belirli bir döneminde periyodik olarak gerçekleş-tirilen göçlere mevsimlik göç denir. Geçici göçlerin çeşitli sebepleri vardır. Aşağıda verilen geçici göç alan yerlerle ilgili olarak hangisinin göç alma sebebi diğerlerinden daha farklı bir sebebe dayanmaktadır?

- A) Alanya B) Antalya C) Adana
D) İzmir E) Muğla

47. Şehirlerin büyümesinde ve gelişmesinde çeşitli faktör-ler rol oynar. Aşağıda verilen şehirlerin hangisinin gelişme-sinde limanlar etkili olmamıştır?

- A) İstanbul B) Antalya C) Trabzon
D) Antakya E) Mersin

GENEL YETENEK- GENEL KÜLTÜR

KPSS -2.Deneme

AKADEMİK AÇIKÖĞRETİM

48. Aşağıda verilenlerden hangisi şehirleşmenin berabere getirdiği sorunlar arasında yer almaz?

- A) Hava kirliliği
- B) Konut yapımının hızlanması
- C) Gecekondulaşma
- D) Sosyal ve kültürel gelişimin sağlanamaması
- E) Düzensiz yapılaşma

49. Aşağıda verilen şıklardan hangisinde sera tarımı yapılmaz?

- A) Mersin
- B) Antalya
- C) Ankara
- D) İzmir
- E) Aydın

50. Bazı ürünler farklı ovalarda yetişir.

Buna göre Gediz Ovasının iklim ve toprak koşullarında yetiştirilebilen bir ürün aşağıdaki ovaların hangisinde yetiştirilebilir?

- A) Malatya Ovası
- B) Çarşamba Ovası
- C) Çukurova
- D) Ergene Ovası
- E) Elazığ Ovası

51. Aşağıda verilen bitkilerden hangisi daha sıcak bir iklim ister?

- A) Üzüm
- B) Narenciye
- C) Buğday
- D) Elma
- E) Fındık

52. Türkiye’de doğal yetişme alanın en dar olan bitki aşağıdakilerden hangisidir?

- A) Çay
- B) Narenciye
- C) İncir
- D) Fındık
- E) Muz

53. Aşağıda verilen tarım ürünlerinden hangisi ihraç edilmez?

- A) Fındık
- B) Buğday
- C) Tütün
- D) Pirinç
- E) Ayçiçeği

54. Türkiye’de mera hayvancılığının daha yoğun olarak yapıldığı bölgemiz hangisidir?

- A) Akdeniz
- B) Karadeniz
- C) Marmara
- D) Doğu Anadolu
- E) Ege

55. Türkiye’de orman alanlarının en fazla olduğu iki bölge hangi şıkta doğru olarak verilmiştir?

- A) Akdeniz-Ege
- B) Karadeniz –Akdeniz
- C) Karadeniz-Ege
- D) Karadeniz-Doğu Anadolu
- E) Ege-Marmara

56. I. Guleman
II. Fethiye
III. Köyceğiz
IV. Denizli

Yukarıda verilen yörelerde çıkarılan maden hangisidir?

- A) Demir
- B) Bakır
- C) Krom
- D) Boksit
- E) Kükürt

57. Aşağıda verilen madenler ve çıkarıldıkları yer eşleştirmelerinden hangisi yanlıştır?

- A) Keçiborlu – Kükürt
- B) Eskişehir – Bor
- C) Akmadeni - Kurşun
- D) Uşak – Manganez
- E) İslahiye – Demir

58. Aşağıda verilen enerji santrallerinden hangisi termik santral değildir?

- A) Soma
- B) Tunçbilek
- C) Elbistan
- D) Hamitabat
- E) Seyitömer

59. Bir yerde üretilen tarım ürünü ve o tarım ürünü ile ilgili sanayi kolu yakınlık gösterir. Bu durumun görülmesinin en büyük sebebi aşağıdakilerden hangisidir?

- A) Anapara
- B) Enerji
- C) Ulaşım
- D) İşletme
- E) Pazar

60. Pamuklu dokuma fabrikaları aşağıda verilen illerden hangisinde yoğunluk göstermez?

- A) Elazığ
- B) Bursa
- C) Adana
- D) İstanbul
- E) İzmir